

B6

## Toetswijzer wisk

MMR

*Ik kan de temperatuur aflezen of aanduiden in °C, temperatuurverschil berekenen, zeggen hoeveel dagen, weken en maanden een jaar telt, (eer)gisteren en (over) morgen juist gebruiken, de datum noteren op verschillende manieren, op een jaarkalender tijdsduur berekenen in dagen.*

Ik onthoud

Het vriespunt van water is 0 °C.



Het kookpunt van water is 100 °C.



In de klas  
is het ongeveer 20 °C.



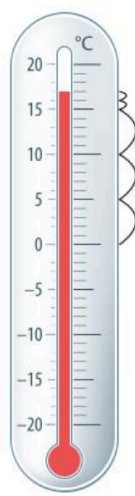
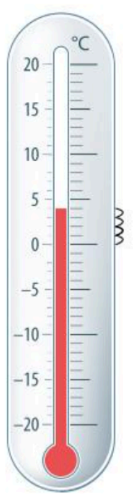
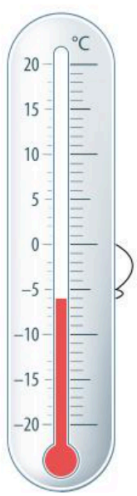

Een gezonde lichaamstemperatuur  
is iets minder dan 37 °C.

**Positieve** temperaturen  
zijn temperaturen  
**boven het vriespunt.**  
bv. 28 °C, 1 °C.



**Negatieve** temperaturen  
zijn temperaturen  
**onder het vriespunt.**  
bv. -5 °C, -12 °C.

### Temperatuur aanduiden en aflezen

			
Het is <b>17 °C</b> .	Het is <b>4 °C</b> .	Het is <b>-6 °C</b> .	Het is <b>-13 °C</b> .

### Temperatuurverschil bepalen

Het verschil tussen <b>twee positieve temperaturen</b>	Het verschil tussen <b>twee negatieve temperaturen</b>
Het temperatuurverschil tussen 17 °C en 4 °C is 13 graden.  (want $17 - 4 = 13$ )	Het temperatuurverschil tussen -6 °C en -13 °C is 7 graden.  (want $13 - 6 = 7$ )

### De kalender

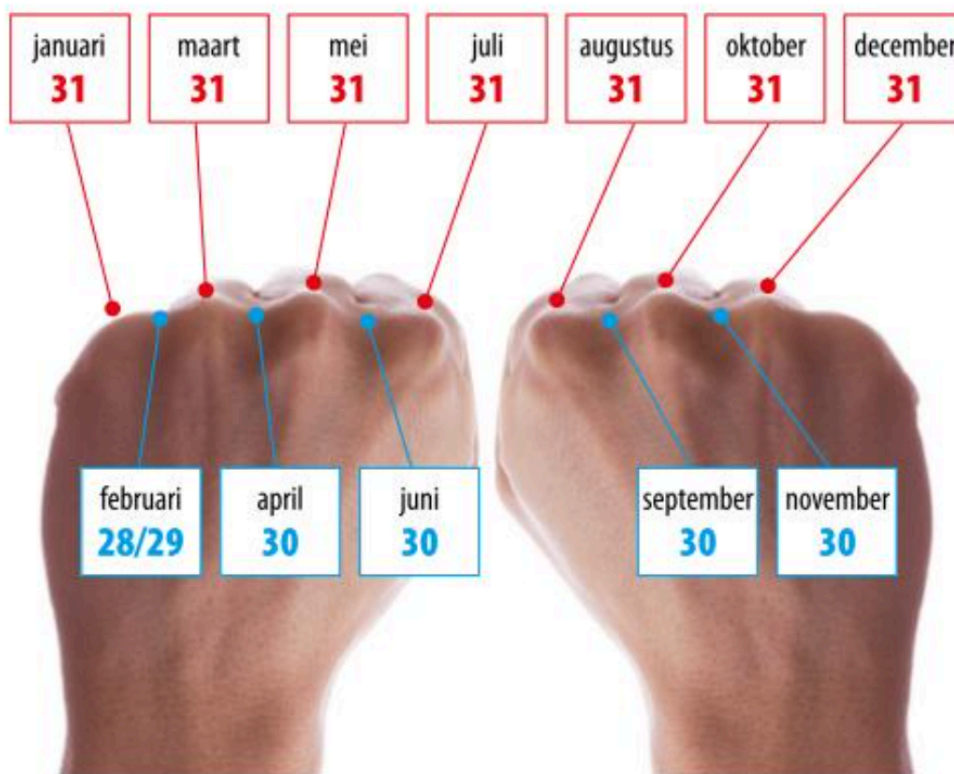
1 jaar telt		
365 (of 366) dagen	12 maanden	52 weken

### De datum aflezen en noteren

nr.	maand	aantal dagen	nr.	maand	aantal dagen
1	januari	31	7	juli	31
2	februari	28/29	8	augustus	31
3	maart	31	9	september	30
4	april	30	10	oktober	31
5	mei	31	11	november	30
6	juni	30	12	december	31



Zo kun je onthouden welke maanden 31 dagen hebben:



Zo lees en noteer je de datum:

bv. <div style="border: 1px solid black; border-radius: 15px; padding: 5px; display: inline-block; margin: 5px;"> <b>24 . 08 . 2021</b> </div> ↙      ↓      ↘ de dag   de maand   het jaar = 24 augustus 2021 (want augustus is de 8e maand)	bv. <div style="border: 1px solid black; border-radius: 15px; padding: 5px; display: inline-block; margin: 5px;"> <b>10 . 12 . 2025</b> </div> ↙      ↓      ↘ de dag   de maand   het jaar = 10 december 2025 (want december is de 12e maand)
--	---

Wij maakten in de klas lessen 67 en 68 p. 64-69.

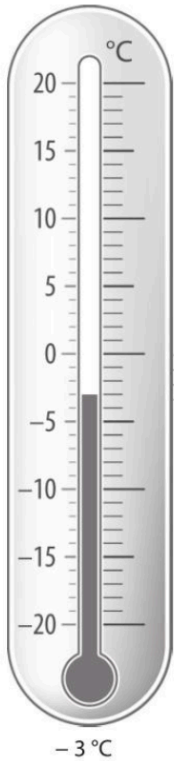
Oef. 6-9 p. 79-81 waren herhaling.

💡 Kijk welke oefeningen je fout had/moeilijk vond en maak deze opnieuw.




Ik oefen

Kijk goed en schrijf op.



Duid het kookpunt aan met rood en het vriespunt met blauw.



Kleur nu zelf. Hoe warm of hoe koud is het?



Bepaal het verschil.



..... °C



..... °C



7 °C



18 °C

Het verschil is ..... °C.

Het verschil is ..... °C.



..... °C



..... °C



-12 °C



-3 °C

Het verschil is ..... °C.

Het verschil is ..... °C.

Werken met de jaarkalender en de datum noteren.

1 JAAR		
= ..... maanden	= ..... weken	= ..... (of .....) dagen

Welke data werden omringd? Noteer voluit en verkort.

2025																											
januari							februari							maart							april						
M	D	W	D	V	Z	Z	M	D	W	D	V	Z	Z	M	D	W	D	V	Z	Z	M	D	W	D	V	Z	Z
				1	2		1	2	3	4	5	6		1	2	3	4	5	6						1	2	3
3	4	5	6	7	8	9	7	8	9	10	11	12	13	7	8	9	10	11	12	13	4	5	6	7	8	9	10
10	11	12	13	14	15	16	14	15	16	17	18	19	20	14	15	16	17	18	19	20	11	12	13	14	15	16	17
17	18	19	20	21	22	23	21	22	23	24	25	26	27	21	22	23	24	25	26	27	18	19	20	21	22	23	24
24	25	26	27	28	29	30	28							28	29	30	31				25	26	27	28	29	30	
31																											
mei							juni							juli							augustus						
M	D	W	D	V	Z	Z	M	D	W	D	V	Z	Z	M	D	W	D	V	Z	Z	M	D	W	D	V	Z	Z
					1		1	2	3	4	5						1	2	3	1	2	3	4	5	6	7	
2	3	4	5	6	7	8	6	7	8	9	10	11	12	4	5	6	7	8	9	10	8	9	10	11	12	13	14
9	10	11	12	13	14	15	13	14	15	16	17	18	19	11	12	13	14	15	16	17	15	16	17	18	19	20	21
16	17	18	19	20	21	22	20	21	22	23	24	25	26	18	19	20	21	22	23	24	22	23	24	25	26	27	28
23	24	25	26	27	28	29	27	28	29	30				25	26	27	28	29	30	31	29	30	31				
30	31																										
september							oktober							november							december						
M	D	W	D	V	Z	Z	M	D	W	D	V	Z	Z	M	D	W	D	V	Z	Z	M	D	W	D	V	Z	Z
			1	2	3	4					1	2	1	2	3	4	5	6					1	2	3	4	
5	6	7	8	9	10	11	3	4	5	6	7	8	9	7	8	9	10	11	12	13	5	6	7	8	9	10	11
12	13	14	15	16	17	18	10	11	12	13	14	15	16	14	15	16	17	18	19	20	12	13	14	15	16	17	18
19	20	21	22	23	24	25	17	18	19	20	21	22	23	21	22	23	24	25	26	27	19	20	21	22	23	24	25
26	27	28	29	30			24	25	26	27	28	29	30	28	29	30				26	27	28	29	30	31		
							31																				

lang

kort

lang

kort

Beantwoord de vragen.

eergisteren	gisteren	vandaag	morgen	overmorgen
-------------	----------	---------	--------	------------

Gisteren was het dinsdag 17 mei.

Vandaag is het zaterdag 22 oktober.

Vandaag is het .....

Morgen is het .....

Eergisteren was het woensdag 8 juni.

Morgen is het zaterdag 24 december.

Morgen is het .....

Eergisteren was het .....



januari							februari							maart							april						
M	D	W	D	V	Z	Z	M	D	W	D	V	Z	Z	M	D	W	D	V	Z	Z	M	D	W	D	V	Z	Z
				1	2		1	2	3	4	5	6		1	2	3	4	5	6						1	2	3
3	4	5	6	7	8	9	7	8	9	10	11	12	13	7	8	9	10	11	12	13	4	5	6	7	8	9	10
10	11	12	13	14	15	16	14	15	16	17	18	19	20	14	15	16	17	18	19	20	11	12	13	14	15	16	17
17	18	19	20	21	22	23	21	22	23	24	25	26	27	21	22	23	24	25	26	27	18	19	20	21	22	23	24
24	25	26	27	28	29	30	28							28	29	30	31				25	26	27	28	29	30	
31																											
mei							juni							juli							augustus						
M	D	W	D	V	Z	Z	M	D	W	D	V	Z	Z	M	D	W	D	V	Z	Z	M	D	W	D	V	Z	Z
				1			1	2	3	4	5		1	2	3				1	2	3	4	5	6	7		
2	3	4	5	6	7	8	6	7	8	9	10	11	12	4	5	6	7	8	9	10	8	9	10	11	12	13	14
9	10	11	12	13	14	15	13	14	15	16	17	18	19	11	12	13	14	15	16	17	15	16	17	18	19	20	21
16	17	18	19	20	21	22	20	21	22	23	24	25	26	18	19	20	21	22	23	24	22	23	24	25	26	27	28
23	24	25	26	27	28	29	27	28	29	30				25	26	27	28	29	30	31	29	30	31				
30	31																										
september							oktober							november							december						
M	D	W	D	V	Z	Z	M	D	W	D	V	Z	Z	M	D	W	D	V	Z	Z	M	D	W	D	V	Z	Z
			1	2	3	4					1	2	1	2	3	4	5	6					1	2	3	4	
5	6	7	8	9	10	11	3	4	5	6	7	8	9	7	8	9	10	11	12	13	5	6	7	8	9	10	11
12	13	14	15	16	17	18	10	11	12	13	14	15	16	14	15	16	17	18	19	20	12	13	14	15	16	17	18
19	20	21	22	23	24	25	17	18	19	20	21	22	23	21	22	23	24	25	26	27	19	20	21	22	23	24	25
26	27	28	29	30			24	25	26	27	28	29	30	28	29	30				26	27	28	29	30	31		
							31																				

Reken uit. Gebruik de jaarkalender.

- Het is donderdag 10.02. Ik ben jarig op 13.02.  
Dat is nog ..... keer slapen.
- Vandaag is het 11/10. Op 19/10 ga ik op schoolreis. Dat is nog ..... keer slapen.
- Het is vrijdag 24.06. Op 1 juli begint de grote vakantie. Dat is nog ..... keer slapen.
- Het is vandaag 9 april. Op 14 april krijg ik mijn nieuwe fiets. Dat is nog ..... keer slapen.

Nog extra oefenen? Maak taken of oefen op [bingel.be](https://bingel.be)

