










BI

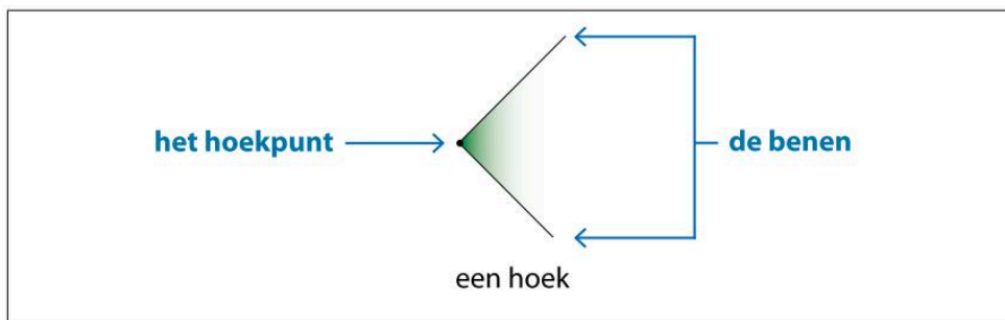
Toetswijzer wisk

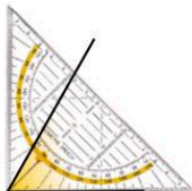


MK

Ik kan punten, lijnen en hoeken onderzoeken en tekenen, tekeningen, foto's en plattegronden verkennen.

Ik onthoud

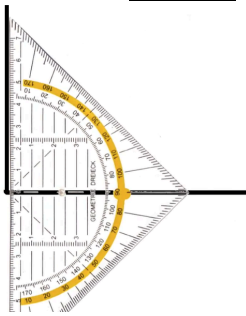
 een rechte lijn	 een gebogen lijn (= een kromme)	 een gebroken lijn
 een horizontale lijn	 een verticale lijn	 een schuine lijn
 het punt A	 de rechte b	 het lijnstuk [CD]



		
een scherpe hoek <	een rechte hoek <	een stompe hoek



Ik teken een rechte hoek.

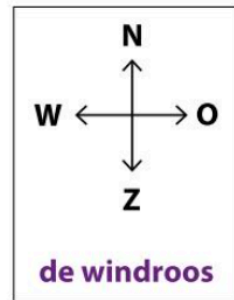


- Leg de **loodlijn** van je geodriehoek gelijk met de gedrukte of getekende lijn.
- Schuif de 0 van je geodriehoek naar het einde van de gedrukte of getekende lijn.
- Teken een tweede rechte langs de tekenzijde.
- Zet een **boogje** in het hoekpunt!

Oriëntatie op een kaart

Op een kaart staat vaak een **windroos**.
Daarop vind je de **windrichtingen**:
noord (N), oost (O), zuid (Z) en west (W).

Staat er geen windroos op de kaart?
Weet dan dat je het noorden altijd bovenaan vindt.



Verschillende standpunten

Afhankelijk van waar je staat,
zie je de dingen anders.



<p>Mo</p> <p>Jeanne</p>	<p>Jeanne ziet eerst de brooddoos, dan (een stukje van) de appel, en daarachter Mo.</p>
<p>Mo ziet eerst de appel, dan (een stukje van) de brooddoos, en daarachter Jeanne.</p>	



Wij maakten in de klas lessen 7, 8 & 9 p. 27-34.

Oef. 10-12 p. 40-42 waren herhaling.

💡 Kijk welke oefeningen je fout had/moeilijk vond en maak deze opnieuw.

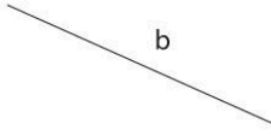


Ik oefen

Overtrek wat gevraagd wordt.

- een gebogen lijn blauw
- een gebroken lijn groen
- een rechte lijn rood
- een horizontale lijn geel
- een schuine lijn paars
- een verticale lijn oranje



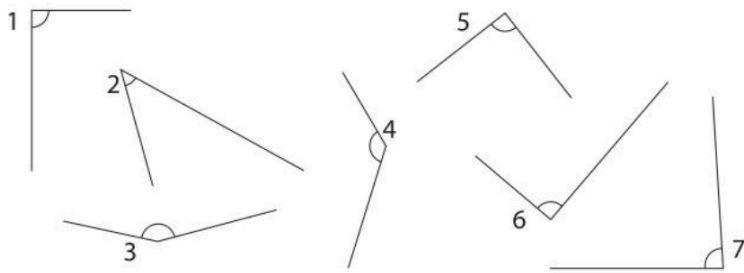
Vul de juiste naam in. Kies uit: de rechte, het lijnstuk en het punt.

 <p>b</p>	 <p>A B</p>	 <p>D</p>
.....

Teken wat gevraagd wordt.

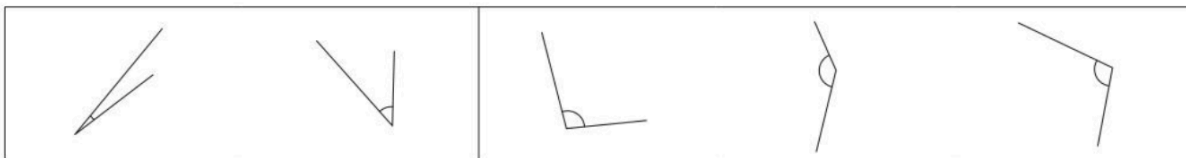
een rechte w	een horizontaal lijnstuk [RF]
een lijnstuk [CM]	een verticale rechte q

Noteer de nummers van de hoeken in de juiste kolom.



rechte hoeken	scherpe hoeken	stompe hoeken
.....
.....
.....



Omkring telkens de grootste hoek.



Teken nu zelf de gevraagde hoek met je geodriehoek.

Teken een scherpe hoek.	Teken een stompe hoek.	Teken een rechte hoek.

Waar stond de fotograaf? Noteer het nummer.



Lees aandachtig. Zoek op de prent. Omkring het juiste antwoord.

Ten noorden van de kerk is er een weide.	juist	fout		
Ten oosten van de politieagent zie je een draaimolen.	juist	fout		
Ik wandel van de kerk naar de spoorweg. Ik wandel naar het ...	N	O	Z	W
Ik ga van de bushalte naar het terrasje. Ik wandel naar het ...	N	O	Z	W

Duid met groen de kortste weg aan tussen vlag 5 en vlag 3.

Nog extra oefenen? Maak taken of oefen op **bingel.be**

