

B3

Toetswijzer wisk

MMR


Ik kan een passende lengtemaat kiezen (m, dm, cm), lengtematen naar elkaar omzetten, lijnen meten en een gegeven lengte tekenen en de wijzerklok lezen tot op 5 min. over het uur.

Ik onthoud

De lengte

De lengte betekent: hoe lang, breed, diep of hoog iets is. Een lengte kun je meten. Daarvoor kan je allerlei meetinstrumenten gebruiken.

		
de meetlat	de rolmeter	de vouwmeter
		
het meetwiel	de lintmeter	de groeimeter
		<p>Welk meetinstrument je kiest, hangt af van wat je wilt meten.</p> 
de bordlat	de meetstok	



m	dm	cm	
1	0	0	1 m = 100 cm
1	0		1 m = 10 dm
	1	0	1 dm = 10 cm

voor **over**



- Kijk naar de grote wijzer. Die staat in de zone **over** het uur.
- Kijk dan naar de kleine wijzer. Die staat voorbij de 6: het is **over 6 uur**.
- Kijk hoeveel minuten over 6 uur de grote wijzer aangeeft: 5 sprongen van 5 minuten of **25 minuten**.

Het is **25 minuten over 6**, of korter: 25 over 6.









Wij maakten in de klas lessen 19 en 20.

Oef. 9-12 p. 80-82 waren herhaling.

💡 Kijk welke oefeningen je fout had/moeilijk vond en maak deze opnieuw.

Ik oefen

Vul de juiste lengtemaat in: m, dm of cm.

		
<p>Mijn pink is ongeveer 7 lang.</p>	<p>De tafel is zowat 1 hoog.</p>	<p>Mijn lijmstift is ongeveer 1 groot.</p>
		
<p>Een duimspijker is ongeveer 2 lang.</p>	<p>Mijn rekenschrift is ongeveer 3 lang.</p>	<p>Echte atleten springen wel 2 hoog.</p>

Zet om. Gebruik de tabel.

1 dm = cm

70 cm = dm

100 cm = m

4 dm = cm

30 cm = dm

200 cm = m

8 dm = cm

50 cm = dm

600 cm = m

6 dm = cm

20 cm = dm

300 cm = m

123 cm = m dm cm

2 m 5 cm = cm

390 cm = m dm cm

1 m 2 dm 3 cm = cm

214 cm = m dm cm

2 m 6 dm 8 cm = cm

307 cm = m dm cm

5 m 8 dm = cm

m	dm	cm

Nu door elkaar. Gebruik de tabel.

5 dm = cm

225 cm = m dm cm

4 m = cm

2 m 4 cm = cm

130 cm = dm

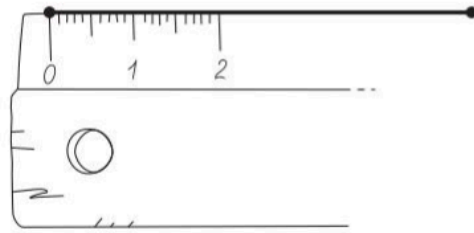
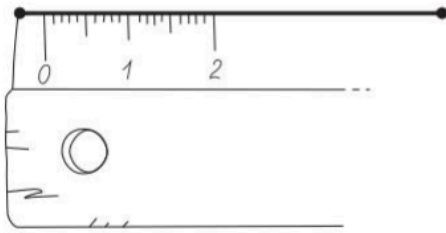
401 cm = m dm cm

1 m 74 cm = cm

m	dm	cm



Welke lat ligt juist om het lijnstuk te meten? Zet er een kruisje bij.



Meet deze lijnstukken nauwkeurig.



= cm

= dm cm



= cm

= dm cm



= cm

= dm cm



= cm

= dm cm

Teken de lijnstukken nu zelf. Wees nauwkeurig!

_____ = 9 cm

_____ = 1 dm 3 cm

_____ = 2 cm

_____ = 1 dm

Hoe laat is het? Kleur een halve klok blauw (voor) en groen (over) en teken de bloemblaadjes.



Het is over 7. Het is over 3. Het is over 11. Het is over 6.



.....

.....

.....

.....



.....

.....

.....

.....

Nog extra oefenen? Maak taken of oefen op bingel.be

